



**RÉPUBLIQUE  
FRANÇAISE**

*Liberté  
Égalité  
Fraternité*

MINISTÈRE DE L'ÉCONOMIE,  
DES FINANCES ET DE LA SOUVERAINETÉ  
INDUSTRIELLE ET NUMÉRIQUE

## CONCOURS EXTERNE ET INTERNE POUR LE RECRUTEMENT DE PERSONNELS DE CATÉGORIE C

ANNÉE 2026

### ÉPREUVE DE PRÉADMISSIBILITÉ

Durée : 1 heure 30 – Coefficient : 1

#### Questionnaire à choix multiples (QCM)

Histoire	6	questions
Géographie	6	questions
Enseignement moral et civique	6	questions
Connaissances sur le numérique et les outils informatiques	6	questions
Actualités	7	questions
Organisation et missions des ministères économiques et financiers	6	questions
Mathématiques	6	questions
Raisonnement logique	7	questions
Total :	50	questions

*Toute note inférieure à 5/20 est éliminatoire.*

#### *Recommandations importantes*

*Le candidat trouvera au verso la manière de servir la copie dédiée.*

*Les copies doivent être totalement anonymes et ne comporter aucun élément d'identification tel que nom, prénom, signature, paraphe, localisation, initiales, numéro ou toute autre indication, même fictive, étrangère au traitement du sujet.*

*Le candidat devra obligatoirement se conformer aux directives données.*

**Tournez la page S.V.P.**

# NOTE AUX CANDIDATS

## → Passation de l'épreuve :

1. Vous devrez, sur chaque feuille A4, remplir en **MAJUSCULES** toutes vos informations d'identification : Nom de naissance, Premier prénom, Numéro de candidature, rempli de gauche à droite, et Date de naissance.

Modèle CFIP v1.1 © EXATECH													
Nom de naissance :	N O M												
Premier prénom :	P R E N O M												
Numéro candidature :	0 0 0 0 1 2 3 4												
Né(e) le :	0 1 / 0 7 / 1 9 9 2												
<small>(Le numéro est celui qui figure sur la convocation ou la feuille d'embarquement)</small>													
<small>(Remplir cette partie à l'aide de la notice)</small>													
Concours / Examen :	Concours pour le recrutement de personnels de catégorie C												
Epreuve n° :	Préadmissibilité												
Matière :	QCM												
Session : 2026													
<b>CONSIGNE DE REMPLISSAGE</b> Remplir les cases à cocher avec un stylo bille NOIR - Ne pas utiliser de CORRECTEUR.													
Cocher les cases : <input checked="" type="checkbox"/> Ne pas entourer les cases : <input type="checkbox"/>													
Pour <b>MODIFIER</b> votre 1ère réponse, ne raturez pas, mais indiquez seulement votre nouvelle réponse sur la 2ème ligne	→ <table border="1"><tr><td>1</td><td><input checked="" type="checkbox"/></td><td><input type="checkbox"/></td><td><input type="checkbox"/></td><td><input type="checkbox"/></td><td>Ann</td></tr><tr><td></td><td><input type="checkbox"/></td><td><input type="checkbox"/></td><td><input checked="" type="checkbox"/></td><td><input type="checkbox"/></td><td></td></tr></table>	1	<input checked="" type="checkbox"/>	<input type="checkbox"/>	<input type="checkbox"/>	<input type="checkbox"/>	Ann		<input type="checkbox"/>	<input type="checkbox"/>	<input checked="" type="checkbox"/>	<input type="checkbox"/>	
1	<input checked="" type="checkbox"/>	<input type="checkbox"/>	<input type="checkbox"/>	<input type="checkbox"/>	Ann								
	<input type="checkbox"/>	<input type="checkbox"/>	<input checked="" type="checkbox"/>	<input type="checkbox"/>									
	→ <table border="1"><tr><td>1</td><td><input checked="" type="checkbox"/></td><td><input type="checkbox"/></td><td><input type="checkbox"/></td><td><input type="checkbox"/></td><td>Ann</td></tr><tr><td></td><td><input type="checkbox"/></td><td><input type="checkbox"/></td><td><input type="checkbox"/></td><td><input type="checkbox"/></td><td><input checked="" type="checkbox"/></td></tr></table>	1	<input checked="" type="checkbox"/>	<input type="checkbox"/>	<input type="checkbox"/>	<input type="checkbox"/>	Ann		<input type="checkbox"/>	<input type="checkbox"/>	<input type="checkbox"/>	<input type="checkbox"/>	<input checked="" type="checkbox"/>
1	<input checked="" type="checkbox"/>	<input type="checkbox"/>	<input type="checkbox"/>	<input type="checkbox"/>	Ann								
	<input type="checkbox"/>	<input type="checkbox"/>	<input type="checkbox"/>	<input type="checkbox"/>	<input checked="" type="checkbox"/>								

2. Il ne doit pas y avoir de rature dans le pavé d'identification. Si nécessaire, vous pouvez demander une nouvelle feuille au responsable de salle.
3. Vous devrez composer uniquement sur les supports de composition officiels de l'épreuve : les feuilles de format A4 comportant le bandeau d'identification.
4. **Notez que dans tous les cas, les feuilles ne doivent être ni découpées, ni agrafées, ni collées.**

Les copies sont anonymisées lors des opérations de scannage. Ainsi, les correcteurs n'ont aucune information sur l'identité du candidat.

## → Lors de la collecte des copies :

Vous devrez rendre **uniquement les feuilles de composition officielles**. Tout autre support (sujet, brouillon) sera écarté de la correction.

## → Directives à respecter pour remplir la feuille de réponse du QCM :

1. Vous devez composer **UNIQUEMENT** sur la feuille de réponse pré-imprimée remise le jour de l'épreuve.
2. L'épreuve QCM comprend 50 questions. Le formulaire proposé comporte 60 zones de réponse. Vous ne devez servir que les 50 premières zones de réponse correspondant au

numéro de la question associée.

3. L'usage **exclusif d'un stylo bille noir** est **IMPÉRATIF**.

Toute copie illisible lors de la numérisation du fait d'une encre trop claire **ne sera pas corrigée (l'usage de stylo à encre effaçable est fortement déconseillé)**.

4. Vous avez le choix entre **4 réponses possibles** : 1, 2, 3 ou 4.

Une seule réponse par question est autorisée. Toute réponse multiple (plusieurs cases cochées sur une même ligne) sera assimilée à une réponse inexacte.

5. **Si vous souhaitez vous abstenir de répondre, vous pouvez soit cocher la case « Ann » ou ne cocher aucune case.** Une réponse fautive est pénalisée. L'absence de réponse vaut zéro.

6. Si vous désirez **MODIFIER** votre 1<sup>ère</sup> réponse, ne raturez pas, indiquez votre nouvelle réponse sur la 2<sup>ème</sup> ligne.

7. Si vous souhaitez **ANNULER** votre réponse de la 1<sup>ère</sup> ligne et/ou de la 2<sup>ème</sup> ligne, vous pouvez cocher la case « Ann ».

8. **IMPORTANT : Une feuille incorrectement servie ne pourra être corrigée.**

**CONSIGNE DE REMPLISSAGE** Remplir les cases à cocher avec un stylo bille **NOIR** - Ne pas utiliser de **CORRECTEUR**.

Cocher les cases :  Ne pas entourer les cases :

Pour **MODIFIER** votre 1<sup>ère</sup> réponse, ne raturez pas, mais indiquez seulement votre nouvelle réponse sur la 2<sup>ème</sup> ligne

1	<input checked="" type="checkbox"/>	<input type="checkbox"/>	<input type="checkbox"/>	<input type="checkbox"/>	Ann
	1	2	3	4	<input type="checkbox"/>
	<input type="checkbox"/>	<input type="checkbox"/>	<input checked="" type="checkbox"/>	<input type="checkbox"/>	

Pour **ANNULER** votre réponse :

1	<input checked="" type="checkbox"/>	<input type="checkbox"/>	<input type="checkbox"/>	<input type="checkbox"/>	Ann
	1	2	3	4	<input checked="" type="checkbox"/>
	<input type="checkbox"/>	<input type="checkbox"/>	<input type="checkbox"/>	<input type="checkbox"/>	

## SUJET

Les candidates et les candidats peuvent disposer sur la table de concours du matériel d'écriture.

**Questionnaire à choix multiples**  
**Répondre sur la feuille de réponse pré-imprimée**

### Histoire

**Q1**

**Quel traité a mis fin à la Première Guerre mondiale ?**

1. Le traité de Berlin
2. Le traité de Londres
3. Le traité de Paris
4. Le traité de Versailles

**Q2**

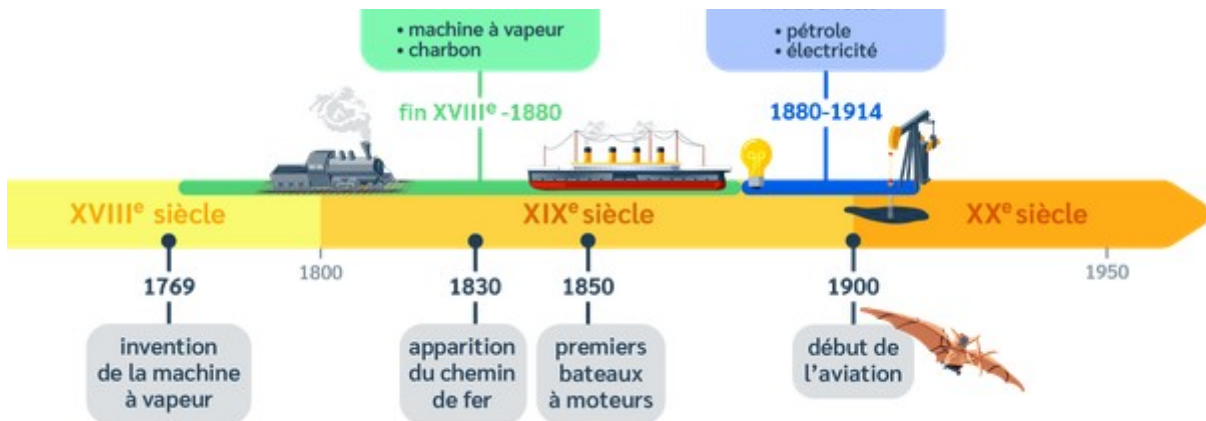
**Qu'a apporté à la France la personnalité représentée ci-dessous ?**



1. Il a aboli les droits féodaux et les privilèges de la noblesse
2. Il a créé le Code civil, imposant une loi uniforme partout et pour tous
3. Il a entériné la séparation de l'église et de l'État
4. Il a rétabli la monarchie absolue

Q 3

Quel est le nom de la révolution représentée ci-dessous ?



1. La révolution agricole
2. La révolution des communications
3. La révolution industrielle
4. La révolution des transports

Q 4

Quel est le nom de l'empire représenté ci-dessous ?



1. L'empire égyptien
2. L'empire grec
3. L'empire perse
4. L'empire romain

Q 5

En quelle année George Washington est-il devenu le premier président des États-Unis ?

1. 1689
2. 1789
3. 1889
4. 1989

Q 6

Qui était le chef de file de la Résistance française pendant la Seconde Guerre mondiale ?

1. Léon Blum
2. Charles de Gaulle
3. Pierre Laval
4. Philippe Pétain

## Géographie

Q 7

Quel est le nom du fleuve représenté ci-dessous ?



1. Le Congo
2. Le Niger
3. Le Nil
4. Le Zambèze

Q 8

Quel est le nom de l'étendue d'eau qui borde la France à l'ouest ?

1. La Manche
2. La mer Méditerranée
3. La mer du Nord
4. L'océan Atlantique

**Q 9**

**En 2025, quel pays a le Produit Intérieur Brut le plus élevé du monde ?**

1. L'Allemagne
2. Les États-Unis
3. Le Japon
4. La Russie

**Q 10**

**Quelle est l'estimation de la population mondiale pour 2025 ?**

1. entre 2 et 2,5 milliards d'habitants
2. entre 4 et 4,5 milliards d'habitants
3. entre 6 et 6,5 milliards d'habitants
4. entre 8 et 8,5 milliards d'habitants

**Q 11**

**Quel pays a quitté l'Union européenne en 2020 ?**

1. L'Allemagne
2. La France
3. L'Italie
4. Le Royaume-Uni

**Q 12**

**Quel facteur conduit à l'urbanisation ?**

1. L'exode rural
2. L'exode urbain
3. L'industrialisation
4. Le tourisme

### **Enseignement moral et civique**

**Q 13**

**Qu'implique la laïcité en France ?**

1. Elle implique que les citoyens doivent pratiquer une religion spécifique
2. Elle implique la séparation de l'État et des organisations religieuses
3. Elle implique que l'État impose une religion officielle
4. La loi de 1905 sur la séparation de l'église et de l'État n'est plus en vigueur

**Q 14**

**De quel texte est tiré l'extrait suivant :**

**ARTICLE PREMIER.**

La France est une République indivisible, laïque, démocratique et sociale. Elle assure l'égalité devant la loi de tous les citoyens sans distinction d'origine, de race ou de religion. Elle respecte toutes les croyances. Son organisation est décentralisée.

La loi favorise l'égal accès des femmes et des hommes aux mandats électoraux et fonctions électives, ainsi qu'aux responsabilités professionnelles et sociales.

1. La Constitution du 27 octobre 1946
2. La Constitution du 4 octobre 1958
3. La Déclaration des droits de l'homme et du citoyen
4. La Charte de l'environnement

**Q 15**

**Quel est le rôle du Parlement français ?**

1. Il dirige l'administration publique
2. Il nomme le Premier ministre
3. Il représente la France à l'étranger
4. Il vote les lois

**Q 16**

**Qu'est-ce qu'une démocratie ?**

1. Un système politique dans lequel les décisions sont prises par un conseil d'experts
2. Un système politique dans lequel le peuple est souverain
3. Un système politique où l'obéissance est imposée par la répression
4. Un système politique où le pouvoir est détenu par un roi

**Q 17**

**Trouvez le mot qui manque dans cet extrait de l'article 4 de la Déclaration des Droits de l'Homme et du Citoyen : « la – consiste à pouvoir faire tout ce qui ne nuit pas à autrui ».**

1. Conscience
2. Liberté
3. Fraternité
4. Politique

**Q 18**

**Qu'est-ce que la JDC (Journée de défense et de citoyenneté) ?**

1. Une activité de loisirs pour les jeunes
2. Un examen médical obligatoire
3. Un jour de congé pour les élèves
4. Une journée de formation sur la défense nationale

## **Connaissances sur le numérique et les outils informatiques**

**Q 19**

**Qu'est-ce qu'un réseau social ?**

1. Un site web ou une application pour acheter des produits en ligne
2. Un site web ou une application pour communiquer avec des amis et des connaissances
3. Un site web ou une application pour jouer en ligne
4. Un site web ou une application pour partager des photos

**Q 20**

**Laurent veut connecter son smartphone à internet. Quel moyen peut-il utiliser ?**

1. La géolocalisation
2. la 3G/4G/5G
3. le mode avion
4. l'accessibilité

**Q 21**

**Qu'est-ce qu'un virus informatique ?**

1. Un programme qui endommage l'ordinateur ou les données
2. Un programme qui protège l'ordinateur contre les virus
3. Un site web pour télécharger des logiciels
4. Un type de logiciel pour jouer en ligne

**Q 22**

**Qu'est-ce qu'un cookie ?**

1. Un logiciel pour protéger l'ordinateur
2. Un petit fichier qui stocke des informations sur l'utilisateur
3. Un site web pour acheter des produits en ligne
4. Un type de virus informatique

**Q 23**

**Qu'est-ce qu'un moteur de recherche ?**

1. Un logiciel pour protéger l'ordinateur
2. Un programme pour trouver des informations sur Internet
3. Un site web pour acheter des produits en ligne
4. Un type de virus informatique

**Q 24**

**Le wifi et le Bluetooth fonctionnent par :**

1. des câbles
2. l'électricité statique
3. la fibre optique
4. des ondes

### Actualités

**Q 25**

**Quel pays a accueilli la 30<sup>e</sup> Conférence des Parties (COP 30) en 2025 ?**

1. Le Brésil
2. La Chine
3. Les États-Unis
4. La France

**Q 26**

**Quel pays a augmenté au cours de l'année 2025, les droits de douanes vis-à-vis de nombreux pays du monde ?**

1. Les États-Unis
2. La France
3. La Russie
4. L'Ukraine

**Q 27**

**Au cours de 2025, quel pays a élu une femme comme Premier ministre pour la première fois ?**

1. L'Allemagne
2. La France
3. L'Italie
4. Le Japon

**Q 28**

**Quels sont les deux premiers ministres qui se sont succédés en France en 2025 ?**

1. François Bayrou et Sébastien Lecornu
2. Jean Castex et Elisabeth Borne
3. Édouard Philippe et Bernard Cazeneuve
4. Manuel Valls et Jean-Marc Ayrault

**Q 29**

**Quelle maladie a affecté les élevages bovins en 2025 ?**

1. La dermatose nodulaire contagieuse
2. La fièvre catarrhale ovine
3. La fièvre porcine africaine
4. La grippe aviaire

**Q 30**

**Parmi les propositions suivantes, laquelle figure dans le Plan de Sobriété énergétique ?**

1. Acheter une voiture diesel pour réduire son impact environnemental
2. Inciter au télétravail pour réduire la consommation de carburant
3. Privilégier l'avion pour ses déplacements
4. Utiliser des ampoules led chez soi

**Q 31**

**Quel a été l'impact de la guerre en Iran sur les prix de l'énergie en mars 2026 ?**

1. Il n'y a pas eu d'impact
2. Les prix ont augmenté
3. Les prix ont chuté
4. Un prix plafond a été mis en place

### **Organisation et missions des ministères économiques et financiers**

**Q 32**

**Qu'est-ce que la TVA ?**

1. La Taxe sur les Biens et Services
2. La Taxe sur les Revenus
3. La Taxe sur la Valeur Ajoutée
4. La Taxe sur les Ventes et Achats

**Q 33**

**Qu'est-ce qu'un contrôle fiscal ?**

1. Une aide financière accordée par l'État aux entreprises en difficulté
2. Une opération de recouvrement des impôts impayés
3. Une procédure permettant aux contribuables de contester leurs impôts
4. Une vérification des comptes d'une entreprise ou d'un particulier par l'administration fiscale pour s'assurer de la conformité de leurs déclarations de revenus et de leurs paiements d'impôts

**Q 34**

**Qu'est-ce que le recouvrement des impôts ?**

1. La collecte des impôts
2. Le contrôle des entreprises
3. La gestion de la dette publique
4. La gestion des finances publiques

**Q 35**

**Quel est le rôle principal de la Direction Générale des Douanes et Droits Indirects ?**

1. Collecter les impôts
2. Contrôler les frontières et les marchandises
3. Gérer la dette publique
4. Gérer les finances publiques

**Q 36**

**Qu'est-ce qu'un tarif douanier ?**

1. Un droit de douane sur les marchandises importées
2. Un impôt sur les revenus
3. Un impôt sur les sociétés
4. Un impôt sur la valeur ajoutée

**Q 37**

**Quelle réforme impacte les entreprises à partir du 1<sup>er</sup> septembre 2026 ?**

1. Le changement de taux de l'impôt sur les sociétés
2. La facturation électronique
3. La suppression des droits de douanes
4. La réforme des normes comptables

## Mathématiques

Q 38

Un article coûte 80 euros. Il est soldé à 20 %. Quel est le prix soldé ?

1. 60 euros
2. 64 euros
3. 70 euros
4. 76 euros

Q 39

Un élève a obtenu les notes suivantes : 12, 15, 8, 10, 14. Quelle est la moyenne de ces notes ?

1. 10,80
2. 11,80
3. 12,80
4. 13,80

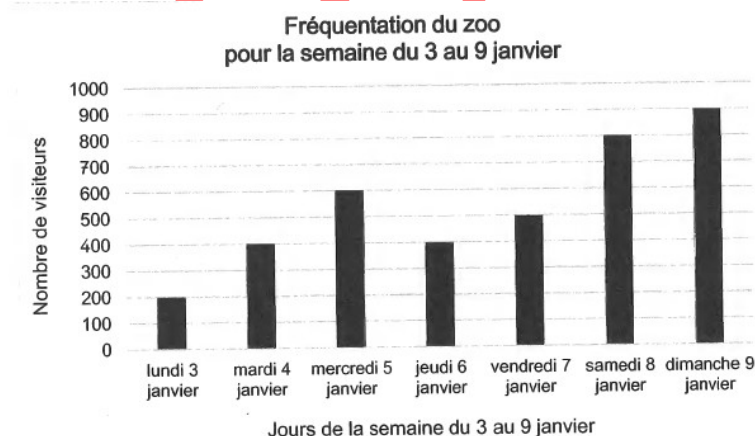
Q 40

Un article coûte 120 euros. Il est augmenté de 15 %. Quel est le nouveau prix ?

1. 130 euros
2. 135 euros
3. 138 euros
4. 140 euros

Q 41

À partir du graphique suivant, combien de visiteurs sont allés au zoo durant le week-end ?



1. 800
2. 900
3. 1700
4. 3800

**Q 42**

Quatre influenceurs participent à une course pour soutenir Octobre rose. Voici leurs temps : Rina : 2h13 ; Sahirtan : 108 minutes ; Layana : 7 140 secondes ; Issa : 121 minutes. Qui est arrivé en premier ?

1. Issa
2. Layana
3. Rina
4. Sahirtan

**Q 43**

Un capital de 1 000 € est placé à un taux d'intérêt annuel de 5 %. Quel est le montant des intérêts après 2 ans ?

1. 100 €
2. 102,50 €
3. 105 €
4. 110,25 €

### Raisonnement logique

**Q 44**

Dans un élevage, 800 poules pondent en moyenne 800 œufs en 8 jours. Combien pondent 400 poules en 4 jours ?

1. 200
2. 300
3. 400
4. 800

**Q 45**

Sachant que le guépard parcourt 17 km en un quart d'heure, la gazelle parcourt 10 km en 10 minutes et le lion parcourt 25 km en une demi-heure, qui est le plus rapide ?

1. La gazelle
2. le guépard
3. le lion
4. ils courent à la même vitesse

**Q 46**

Quand Adam et Clara se sont mariés, chacun d'eux avait déjà plusieurs enfants de mariages précédents. Quelques années plus tard, il y a 8 enfants dans leur maison. Sachant que Adam est le père de 6 et Clara la mère de 5, combien d'enfants ont-ils eu ensemble ?

1. 3
2. 5
3. 6
4. 8

**Q 47**

Martin fait la queue avant le spectacle. Le nombre de personnes dans la queue est un multiple de 3. Il y a autant de personnes devant lui que derrière lui. Deux de ses amis sont dans la queue derrière lui, l'un à la 19<sup>e</sup> place, l'autre à la 28<sup>e</sup>. Quelle est la position de Martin dans la queue ?

1. 14
2. 15
3. 16
4. 17

**Q 48**

Un rang a quatre sièges numérotés de 1 à 4, de gauche à droite. Ils sont occupés par Lina, Idriss, Nina et Sovann, mais pas nécessairement dans cet ordre. On sait cependant que : Lina n'occupe pas le siège 1 ; Idriss est directement à la droite de Lina ; Sovann n'est pas à une extrémité du rang.

À côté de qui Nina est-elle assise ?

1. Lina et Sovann
2. Lina seulement
3. Idriss et Lina
4. Sovann seulement

**Q 49**

J'ai hérité de deux montres, celle de ma grand-mère et celle de mon grand-père. Celle de mon grand-père perd 5 minutes chaque heure, et celle de ma grand-mère avance de 5 minutes chaque heure. Hier, à 21 heures, j'ai mis les deux montres à l'heure. Ce matin, la montre de mon grand-père indiquait 8 heures. Quelle heure indiquait celle de ma grand-mère au même moment ?

1. 9 h
2. 9h30
3. 10 h
4. 10h30

**Q 50**

Alya, Bianca et Ivy vont acheter des crayons et des livres. Chacune a acheté dix articles. Alya a acheté deux fois plus de crayons qu'Ivy a acheté de livres. Bianca a acheté deux fois plus de crayons qu'Alya a acheté de livres. À elles trois, elles ont acheté un nombre pair de livres. Combien de crayons Bianca a-t-elle acheté ?

1. 2
2. 4
3. 6
4. 7

## CORRIGE

Les candidates et les candidats peuvent disposer sur la table de concours du matériel d'écriture.

Questionnaire à choix multiples  
Répondre sur la feuille de réponse pré-imprimée

### Histoire

Q1

Quel traité a mis fin à la Première Guerre mondiale ?

5. Le traité de Berlin
6. Le traité de Londres
7. Le traité de Paris
8. **Le traité de Versailles**

Q2

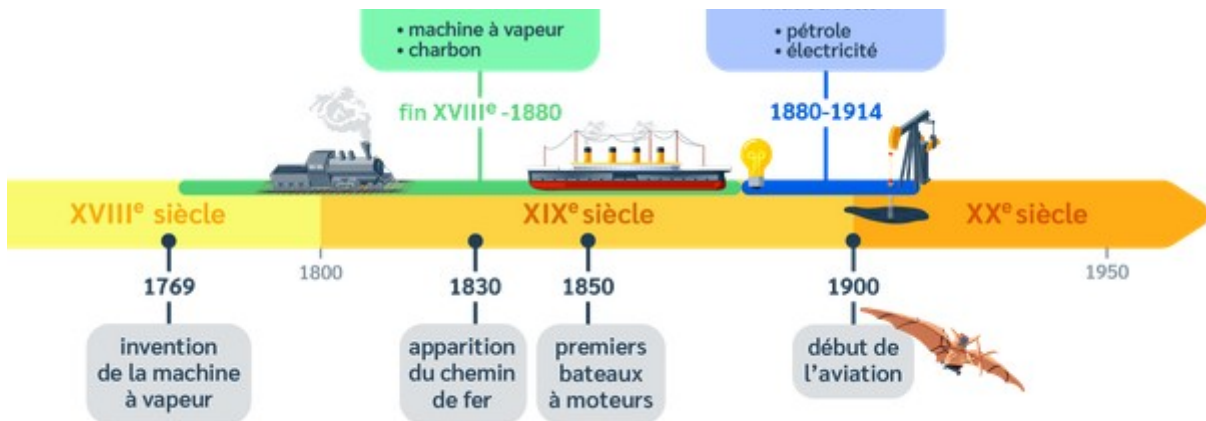
Qu'a apporté à la France la personnalité représentée ci-dessous ?



1. Il a aboli les droits féodaux et les privilèges de la noblesse
2. **Il a créé le Code civil, imposant une loi uniforme partout et pour tous**
3. Il a entériné la séparation de l'église et de l'État
4. Il a rétabli la monarchie absolue

Q 3

Quel est le nom de la révolution représentée ci-dessous ?



1. La révolution agricole
2. La révolution des communications
3. La révolution industrielle
4. La révolution des transports

Q 4

Quel est le nom de l'empire représenté ci-dessous ?



1. L'empire égyptien
2. L'empire grec
3. L'empire perse
4. L'empire romain

Q 5

En quelle année George Washington est-il devenu le premier président des États-Unis ?

1. 1689
2. 1789
3. 1889
4. 1989

Q 6

Qui était le chef de file de la Résistance française pendant la Seconde Guerre mondiale ?

1. Léon Blum
2. Charles de Gaulle
3. Pierre Laval
4. Philippe Pétain

## Géographie

Q 7

Quel est le nom du fleuve représenté ci-dessous ?



1. Le Congo
2. Le Niger
3. Le Nil
4. Le Zambèze

Q 8

Quel est le nom de l'étendue d'eau qui borde la France à l'ouest ?

1. La Manche
2. La mer Méditerranée
3. La mer du Nord
4. L'océan Atlantique

Q 9

En 2025, quel pays a le Produit Intérieur Brut le plus élevé du monde ?

1. L'Allemagne
2. Les États-Unis
3. Le Japon
4. La Russie

Q 10

Quelle est l'estimation de la population mondiale pour 2025 ?

1. entre 2 et 2,5 milliards d'habitants
2. entre 4 et 4,5 milliards d'habitants
3. entre 6 et 6,5 milliards d'habitants
4. entre 8 et 8,5 milliards d'habitants

Q 11

Quel pays a quitté l'Union européenne en 2020 ?

1. L'Allemagne
2. La France
3. L'Italie
4. Le Royaume-Uni

Q 12

Quel facteur conduit à l'urbanisation ?

1. L'exode rural
2. L'exode urbain
3. L'industrialisation
4. Le tourisme

### Enseignement moral et civique

Q 13

Qu'implique la laïcité en France ?

1. Elle implique que les citoyens doivent pratiquer une religion spécifique
2. Elle implique la séparation de l'État et des organisations religieuses
3. Elle implique que l'État impose une religion officielle
4. La loi de 1905 sur la séparation de l'église et de l'État n'est plus en vigueur

Q 14

De quel texte est tiré l'extrait suivant :

**ARTICLE PREMIER.**

La France est une République indivisible, laïque, démocratique et sociale. Elle assure l'égalité devant la loi de tous les citoyens sans distinction d'origine, de race ou de religion. Elle respecte toutes les croyances. Son organisation est décentralisée.

La loi favorise l'égal accès des femmes et des hommes aux mandats électoraux et fonctions électives, ainsi qu'aux responsabilités professionnelles et sociales.

1. La Constitution du 27 octobre 1946
2. La Constitution du 4 octobre 1958
3. La Déclaration des droits de l'homme et du citoyen
4. La Charte de l'environnement

Q 15

Quel est le rôle du Parlement français ?

1. Il dirige l'administration publique
2. Il nomme le Premier ministre
3. Il représente la France à l'étranger
4. Il vote les lois

Q 16

Qu'est-ce qu'une démocratie ?

1. Un système politique dans lequel les décisions sont prises par un conseil d'experts
2. Un système politique dans lequel le peuple est souverain
3. Un système politique où l'obéissance est imposée par la répression
4. Un système politique où le pouvoir est détenu par un roi

Q 17

Trouvez le mot qui manque dans cet extrait de l'article 4 de la Déclaration des Droits de l'Homme et du Citoyen : « la – consiste à pouvoir faire tout ce qui ne nuit pas à autrui ».

1. Conscience
2. Liberté
3. Fraternité
4. Politique

Q 18

Qu'est-ce que la JDC (Journée de défense et de citoyenneté) ?

1. Une activité de loisirs pour les jeunes
2. Un examen médical obligatoire
3. Un jour de congé pour les élèves
4. Une journée de formation sur la défense nationale

## Connaissances sur le numérique et les outils informatiques

Q 19

Qu'est-ce qu'un réseau social ?

1. Un site web ou une application pour acheter des produits en ligne
2. Un site web ou une application pour communiquer avec des amis et des connaissances
3. Un site web ou une application pour jouer en ligne
4. Un site web ou une application pour partager des photos

Q 20

Laurent veut connecter son smartphone à internet. Quel moyen peut-il utiliser ?

1. La géolocalisation
2. la 3G/4G/5G
3. le mode avion
4. l'accessibilité

Q 21

Qu'est-ce qu'un virus informatique ?

1. Un programme qui endommage l'ordinateur ou les données
2. Un programme qui protège l'ordinateur contre les virus
3. Un site web pour télécharger des logiciels
4. Un type de logiciel pour jouer en ligne

Q 22

Qu'est-ce qu'un cookie ?

1. Un logiciel pour protéger l'ordinateur
2. Un petit fichier qui stocke des informations sur l'utilisateur
3. Un site web pour acheter des produits en ligne
4. Un type de virus informatique

Q 23

Qu'est-ce qu'un moteur de recherche ?

1. Un logiciel pour protéger l'ordinateur
2. Un programme pour trouver des informations sur Internet
3. Un site web pour acheter des produits en ligne
4. Un type de virus informatique

Q 24

Le wifi et le Bluetooth fonctionnent par :

1. des câbles
2. l'électricité statique
3. la fibre optique
4. des ondes

### Actualités

Q 25

Quel pays a accueilli la 30<sup>e</sup> Conférence des Parties (COP 30) en 2025 ?

1. Le Brésil
2. La Chine
3. Les États-Unis
4. La France

Q 26

Quel pays a augmenté au cours de l'année 2025, les droits de douanes vis-à-vis de nombreux pays du monde ?

1. Les États-Unis
2. La France
3. La Russie
4. L'Ukraine

Q 27

Au cours de 2025, quel pays a élu une femme comme Premier ministre pour la première fois ?

1. L'Allemagne
2. La France
3. L'Italie
4. Le Japon

Q 28

Quels sont les deux premiers ministres qui se sont succédés en France en 2025 ?

1. François Bayrou et Sébastien Lecornu
2. Jean Castex et Elisabeth Borne
3. Édouard Philippe et Bernard Cazeneuve
4. Manuel Valls et Jean-Marc Ayrault

Q 29

Quelle maladie a affecté les élevages bovins en 2025 ?

1. La dermatose nodulaire contagieuse
2. La fièvre catarrhale ovine
3. La fièvre porcine africaine
4. La grippe aviaire

Q 30

Parmi les propositions suivantes, laquelle figure dans le Plan de Sobriété énergétique ?

1. Acheter une voiture diesel pour réduire son impact environnemental
2. Inciter au télétravail pour réduire la consommation de carburant
3. Privilégier l'avion pour ses déplacements
4. Utiliser des ampoules led chez soi

Q 31

Quel a été l'impact de la guerre en Iran sur les prix de l'énergie en mars 2026 ?

1. Il n'y a pas eu d'impact
2. Les prix ont augmenté
3. Les prix ont chuté
4. Un prix plafond a été mis en place

## Organisation et missions des ministères économiques et financiers

Q 32

Qu'est-ce que la TVA ?

1. La Taxe sur les Biens et Services
2. La Taxe sur les Revenus
3. La Taxe sur la Valeur Ajoutée
4. La Taxe sur les Ventes et Achats

**Q 33**

**Qu'est-ce qu'un contrôle fiscal ?**

1. Une aide financière accordée par l'État aux entreprises en difficulté
2. Une opération de recouvrement des impôts impayés
3. Une procédure permettant aux contribuables de contester leurs impôts
4. Une vérification des comptes d'une entreprise ou d'un particulier par l'administration fiscale pour s'assurer de la conformité de leurs déclarations de revenus et de leurs paiements d'impôts

**Q 34**

**Qu'est-ce que le recouvrement des impôts ?**

1. La collecte des impôts
2. Le contrôle des entreprises
3. La gestion de la dette publique
4. La gestion des finances publiques

**Q 35**

**Quel est le rôle principal de la Direction Générale des Douanes et Droits Indirects ?**

1. Collecter les impôts
2. Contrôler les frontières et les marchandises
3. Gérer la dette publique
4. Gérer les finances publiques

**Q 36**

**Qu'est-ce qu'un tarif douanier ?**

1. Un droit de douane sur les marchandises importées
2. Un impôt sur les revenus
3. Un impôt sur les sociétés
4. Un impôt sur la valeur ajoutée

**Q 37**

**Quelle réforme impacte les entreprises à partir du 1<sup>er</sup> septembre 2026 ?**

1. Le changement de taux de l'impôt sur les sociétés
2. La facturation électronique
3. La suppression des droits de douanes
4. La réforme des normes comptables

## Mathématiques

Q 38

Un article coûte 80 euros. Il est soldé à 20 %. Quel est le prix soldé ?

1. 60 euros
2. 64 euros
3. 70 euros
4. 76 euros

Q 39

Un élève a obtenu les notes suivantes : 12, 15, 8, 10, 14. Quelle est la moyenne de ces notes ?

1. 10,80
2. 11,80
3. 12,80
4. 13,80

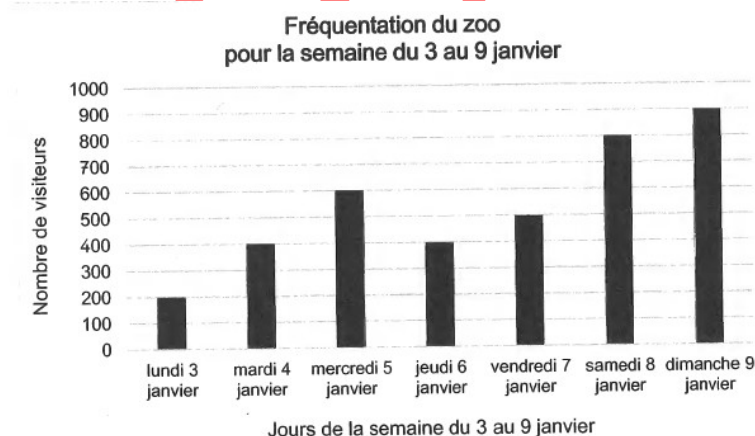
Q 40

Un article coûte 120 euros. Il est augmenté de 15 %. Quel est le nouveau prix ?

1. 130 euros
2. 135 euros
3. 138 euros
4. 140 euros

Q 41

À partir du graphique suivant, combien de visiteurs sont allés au zoo durant le week-end ?



1. 800
2. 900
3. 1700
4. 3800

Q 42

Quatre influenceurs participent à une course pour soutenir Octobre rose. Voici leurs temps : Rina : 2h13 ; Sahirtan : 108 minutes ; Layana : 7 140 secondes ; Issa : 121 minutes. Qui est arrivé en premier ?

1. Issa
2. Layana
3. Rina
4. Sahirtan

Q 43

Un capital de 1 000 € est placé à un taux d'intérêt annuel de 5 %. Quel est le montant des intérêts après 2 ans ?

1. 100 €
2. 102,50 €
3. 105 €
4. 110,25 €

### Raisonnement logique

Q 44

Dans un élevage, 800 poules pondent en moyenne 800 œufs en 8 jours. Combien pondent 400 poules en 4 jours ?

1. 200
2. 300
3. 400
4. 800

Q 45

Sachant que le guépard parcourt 17 km en un quart d'heure, la gazelle parcourt 10 km en 10 minutes et le lion parcourt 25 km en une demi-heure, qui est le plus rapide ?

1. La gazelle
2. le guépard
3. le lion
4. ils courent à la même vitesse

Q 46

Quand Adam et Clara se sont mariés, chacun d'eux avait déjà plusieurs enfants de mariages précédents. Quelques années plus tard, il y a 8 enfants dans leur maison. Sachant que Adam est le père de 6 et Clara la mère de 5, combien d'enfants ont-ils eu ensemble ?

1. 3
2. 5
3. 6
4. 8

Q 47

Martin fait la queue avant le spectacle. Le nombre de personnes dans la queue est un multiple de 3. Il y a autant de personnes devant lui que derrière lui. Deux de ses amis sont dans la queue derrière lui, l'un à la 19<sup>e</sup> place, l'autre à la 28<sup>e</sup>. Quelle est la position de Martin dans la queue ?

1. 14
2. 15
3. 16
4. 17

Q 48

Un rang a quatre sièges numérotés de 1 à 4, de gauche à droite. Ils sont occupés par Lina, Idriss, Nina et Sovann, mais pas nécessairement dans cet ordre. On sait cependant que : Lina n'occupe pas le siège 1 ; Idriss est directement à la droite de Lina ; Sovann n'est pas à une extrémité du rang.

À côté de qui Nina est-elle assise ?

1. Lina et Sovann
2. Lina seulement
3. Idriss et Lina
4. Sovann seulement

Q 49

J'ai hérité de deux montres, celle de ma grand-mère et celle de mon grand-père. Celle de mon grand-père perd 5 minutes chaque heure, et celle de ma grand-mère avance de 5 minutes chaque heure. Hier, à 21 heures, j'ai mis les deux montres à l'heure. Ce matin, la montre de mon grand-père indiquait 8 heures. Quelle heure indiquait celle de ma grand-mère au même moment ?

1. 9 h
2. 9h30
3. 10 h
4. 10h30

Q 50

Alya, Bianca et Ivy vont acheter des crayons et des livres. Chacune a acheté dix articles. Alya a acheté deux fois plus de crayons qu'Ivy a acheté de livres. Bianca a acheté deux fois plus de crayons qu'Alya a acheté de livres. À elles trois, elles ont acheté un nombre pair de livres. Combien de crayons Bianca a-t-elle acheté ?

1. 2
2. 4
3. 6
4. 7